











Name: _____ Date: _____ Score: _____


Counting Coins: make the sum with the fewest





1.)  +  +  +  = 4 ¢


2.)     = 25 ¢

3.)     = 18 ¢

4.)     = 23 ¢





5.)     = 8 ¢

6.)     = 20 ¢









































7.)     = 2 ¢

8.)     = 19 ¢

9.)     = 8 ¢

10.)     = 21 ¢

Answers

- 1).  +  +  +  = 4 ¢
- 2).  +  +  +  = 25 ¢
- 3).  +  +  +  = 18 ¢
- 4).  +  +  +  = 23 ¢
- 5).  +  +  +  = 8 ¢
- 6).  +  +  +  = 20 ¢
- 7).  +  +  +  = 2 ¢
- 8).  +  +  +  = 19 ¢
- 9).  +  +  +  = 8 ¢
- 10).  +  +  +  = 21 ¢