













Name: _____ Date: _____ Score: _____

Counting Coins: make the sum with the fewest





1.)  +  +  +  = 20 ¢


2.)     = 14 ¢

3.)     = 25 ¢

4.)     = 15 ¢





5.)     = 25 ¢

6.)     = 6 ¢









































7.)     = 3 ¢

8.)     = 17 ¢

9.)     = 17 ¢

10.)     = 21 ¢

Answers

- 1).  +  +  +  = 20 ¢
- 2).  +  +  +  = 14 ¢
- 3).  +  +  +  = 25 ¢
- 4).  +  +  +  = 15 ¢
- 5).  +  +  +  = 25 ¢
- 6).  +  +  +  = 6 ¢
- 7).  +  +  +  = 3 ¢
- 8).  +  +  +  = 17 ¢
- 9).  +  +  +  = 17 ¢
- 10).  +  +  +  = 21 ¢